

# 東京都職員（職業訓練Ⅲ類）採用選考試験問題

令和6年7月13日実施


指示があるまで開いてはいけません。

## 一般教養

- 1 問題は全部で21ページ、20問です。
- 2 問題用紙及び解答用紙の所定欄に、受験番号・氏名を記入してください。
- 3 試験時間は60分間です。途中退出はできません。
- 4 解答は必ず解答用紙に記入してください。問題用紙に記入しても正答と認めません。
- 5 解答を訂正するときは、消しゴムできれいに消してから新しい解答を記入してください。
- 6 問題用紙及び解答用紙は、持ち帰ることはできません。

職 種	受験番号	氏 名
職業訓練		

(東京都産業労働局)



【問 1】

次の文章の要旨として最も適当なものを次の1～5のうちから一つ選べ。

※この問題は、著作権の関係により掲載できません。

出典：丸山謙治『競合と戦わずして勝つ戦略』

- 1 戦略は“人”に大きく依存しており、その人の才能や経験の上に成り立っているために他の人では再現することはできない。
- 2 成功した経営者の多くは運が良かったのであり、特別な才能や直感力に頼ったりすることはない。
- 3 マーケティングとは長期的な視点で生き残っていくための戦略であり、短期的な戦略ではない。
- 4 マーケティング戦略においては、芸術的なアプローチは不必要であり、科学的アプローチが求められる。
- 5 マーケティング戦略は、“今”を生き抜く戦略であり、成功した戦略に共通する普遍的な原理原則を適用するアプローチである。

【問 2】

漢字とその読みの組合せとして、最も適当なものを次の1～5のうちから一つ選べ。

- 1 格子 — コウシ
- 2 漸次 — ザンジ
- 3 出納 — シュツノウ
- 4 暴露 — ボウロ
- 5 減殺 — メッサツ

【問 3】

次の文章の内容に合致するものとして最も適当なものを次の1～5のうちから一つ選べ

※この問題は、著作権の関係により掲載できません。

- 1 著者は、英国のパブで過ごす時間帯として最適なのは夜更けだと述べている。
- 2 パブは、古くから営利目的の情報交換の場として利用されていた。
- 3 かつてパブでは、仕事を終えた男女が談笑し、喉の渇きを癒してくつろぐ姿が多く見られた。
- 4 パブの人気低迷は衛星テレビやインターネットが登場した頃からはじまった。
- 5 著者によれば、パブを利用しないことにより社会経済が悪化し、社会生活で問題を抱える人が増加しているという。

【問 4】

1 から 9 までのそれぞれの数が書かれた 9 枚のカードがある。このカードを 1 枚ずつ抜き出し、9 枚すべてを左から順に並べるとき、1 が 3 より左にあり、3 が 5 より左にある確率として、最も適当なものを次の 1 ～ 5 のうちから一つ選べ。

1  $\frac{1}{7}$

2  $\frac{1}{6}$

3  $\frac{1}{5}$

4  $\frac{1}{4}$

5  $\frac{1}{3}$

【問 5】

A～Eは同じ大学に通う大学生で、各自の性別や所属する学部、出身地について以下のア～ケのことが分かっている。このとき、確実にいえることとして、最も適当なものを次の1～5のうちから一つ選べ。

ア A～Eの中には、文学部、法学部、工学部の学生が1人ずつおり、経済学部の学生は2人いる。

イ A～Eの中には、福岡県出身者が1人、東京都出身者と大阪府出身者が2人ずついる。

ウ A～Eの中には、女性が3人、男性が2人おり、それぞれの出身地は異なっている。

エ Aは大阪府出身である。

オ Bは男性である。

カ Cは女性で東京出身である。

キ Eは文学部に所属している。

ク 5人のうち法学部の学生は大阪府出身である。

ケ 5人のうち経済学部の学生には大阪府出身者と福岡県出身者が1人ずついる。

- 1 Aは法学部の学生である。
- 2 Bは経済学部の学生である。
- 3 Cは工学部の学生である。
- 4 Dは大阪府出身である。
- 5 Eは福岡県出身である。



【問 6】

A～Gの7つのおもりがあり、そのうち5つは1 g、残りの2つはそれぞれ2 g、3 gである。これらのおもりを上皿天秤に載せ、2回計量したところ、以下のことが分かった。

< 1回目の計量 >

左の皿にA、C、Dを載せ、右の皿にE、Fを載せたところ、右の皿の方が重かった。

< 2回目の計量 >

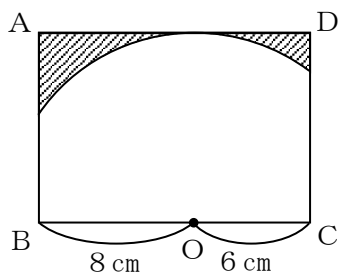
左の皿にA、Eを載せ、右の皿にB、Gを載せたところ、右の皿の方が重かった。

このとき、あともう1回だけ上皿天秤を使い、A～Gのそれぞれの重さを確定させることができる組合せとして、最も適当なものを次の1～5のうちから一つ選べ。

	左の皿	右の皿
1	AとD	BとF
2	BとG	DとE
3	BとD	EとG
4	CとF	DとG
5	CとG	BとF

【問 7】

図の長方形ABCDには、点Oを中心とした半径10cmの円の一部分が重なっている。斜線部分の面積として、最も適当なものを次の1～5のうちから一つ選べ。



- 1  $90 - 25\pi \text{ cm}^2$
- 2  $90 - 50\pi \text{ cm}^2$
- 3  $92 - 25\pi \text{ cm}^2$
- 4  $92 - 50\pi \text{ cm}^2$
- 5  $98 - 25\pi \text{ cm}^2$

【問 8】

下の表は、ある都市の令和2年度および令和3年度の福祉関係予算を表したものである。  
この表から正しくいえることとして、最も適当なものを次の1～5のうちから一つ選べ。

福祉関係予算

(単位：億円)

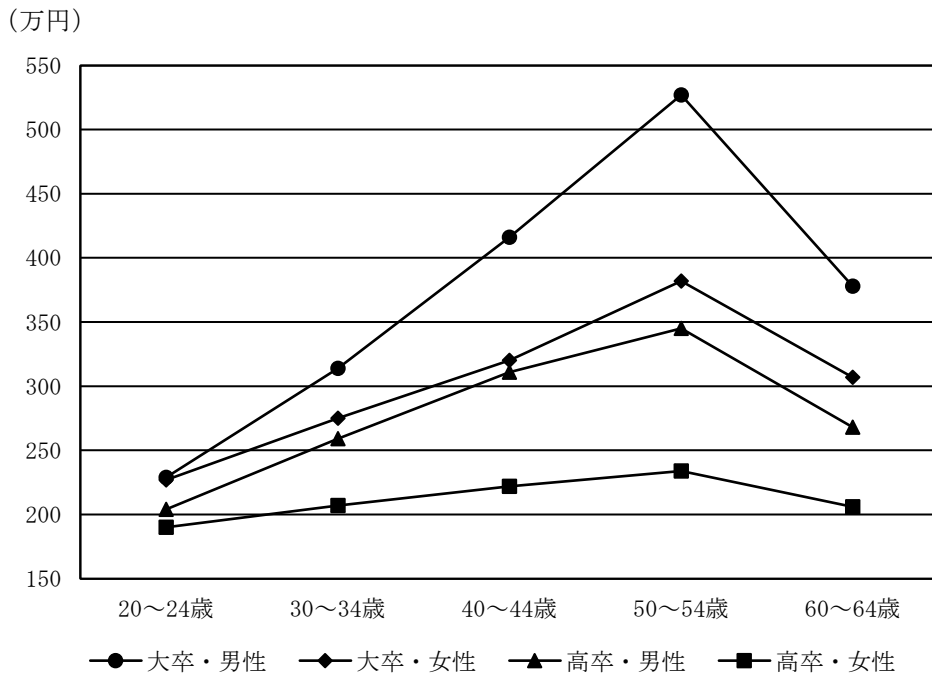
項目	令和3年度	令和2年度
保健政策	3,348	3,338
少子社会対策	3,258	3,088
高齢社会対策	2,350	2,399
障害者施策	2,084	2,134
医療政策	661	637
生活福祉	410	355
その他	328	316
全予算合計	12,439	12,267

- 1 保健政策についてみると、いずれの年度においても全予算合計の30%以上である。
- 2 少子社会対策についてみると、令和3年度は令和2年度に対して5%以上増えている。
- 3 令和3年度の予算についてみると、保健政策から障害者施策までの上位4項目の合計は全予算合計の90%以上である。
- 4 令和2年度に対する令和3年度の予算の割合が一番大きい項目は少子社会対策である。
- 5 全予算合計についてみると、令和3年度は令和2年度に対して2%以上増えている。

【問 9】

下のグラフは、20代前半から60代前半まで、各年齢層の賃金を学歴および性別で表したものである。このグラフから正しくいえることとして、最も適当なものを次の1～5のうちから一つ選べ。

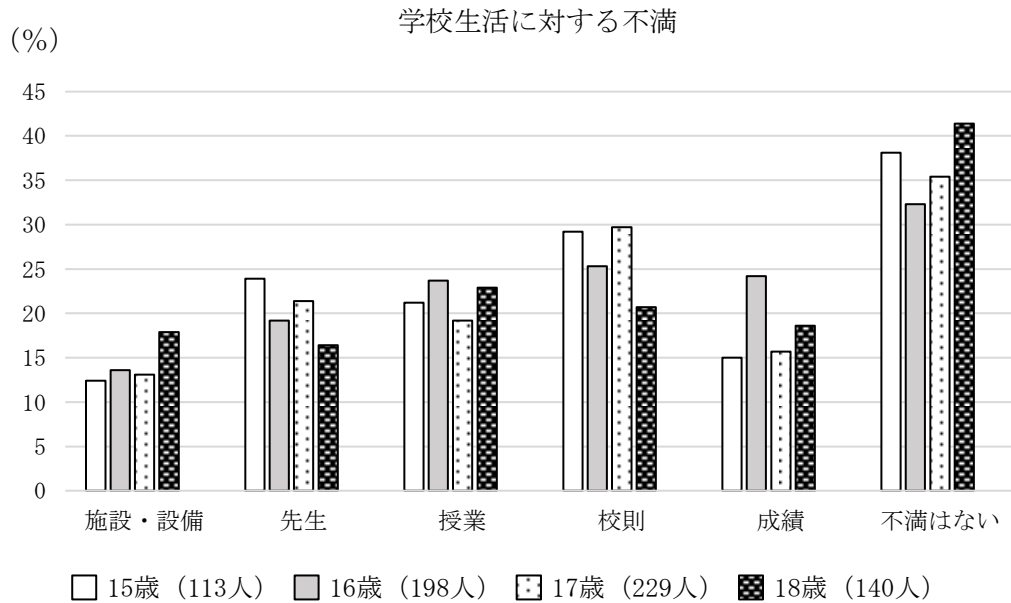
各年齢層の賃金



- 1 「大卒・男性」についてみると、「20～24歳」から「50～54歳」までの賃金は、年齢層がひとつ上がるごとに40%以上増加している。
- 2 「50～54歳」の賃金についてみると、「高卒・女性」に対する「高卒・男性」の割合よりも「大卒・女性」に対する「大卒・男性」の割合の方が大きい。
- 3 「50～54歳」から「60～64歳」にかけて、賃金の減少率が最も小さいのは「大卒・女性」である。
- 4 「20～24歳」を除くと、グラフ中のいずれの年齢層においても「高卒・男性」の賃金は「高卒・女性」の賃金の1.2倍以上である。
- 5 大卒と高卒の賃金の差額が最も大きいのは男性・女性とも「50～54歳」で、その年齢層での男性の差額は女性の差額の1.5倍以上である。

【問 10】

下のグラフは、15 歳から 18 歳の生徒・学生に学校生活に対する不満を尋ねた結果で、カッコ内の数字は調査した人数を表している。このグラフから正しくいえることとして、最も適当なものを次の 1～5 のうちから一つ選べ。



- 1 いずれの年齢でも一番多い不満は校則についてである。
- 2 先生に不満がある生徒・学生の数は、15歳が一番多い。
- 3 成績に不満がある17歳の人数は、施設・設備に不満がある15歳の人数の2倍未満である。
- 4 授業に不満があると答えた16歳は50人以上である。
- 5 不満はないと答えた生徒・学生の合計は200人を超えている。

【問 11】

政党政治に関する次の記述の（ A ）～（ E ）に当てはまる語句の組合せとして、最も適当なものを次の1～5のうちから一つ選べ。

政党は、国民のさまざまな意見や要求をくみあげて、国民の支持を求める。選挙によって議席の多数を獲得した政党が（ A ）となって政権を担当し、これに対し政権を担当しない政党のことを（ B ）という。（ B ）には、（ A ）や政府の政策を批判し、行政を監視するなどの重要な役割がある。

政党政治の形態として、従来のイギリスやアメリカのように有力な政党が対抗する（ C ）、ドイツのように3つ以上の政党が競争する（ D ）がある。（ D ）の下での政権運営は、（ E ）になりやすい。

	A	B	C	D	E
1	与党	野党	多党制	二大政党制	連立政権
2	与党	野党	二大政党制	多党制	単独政権
3	与党	野党	二大政党制	多党制	連立政権
4	野党	与党	多党制	二大政党制	連立政権
5	野党	与党	二大政党制	多党制	単独政権

【問 12】

国際連合に関する記述として、最も適当なものを次の1～5のうちから一つ選べ。

- 1 国際連合は、戦争のない国際社会をつくるために、集団安全保障方式ではなく勢力均衡方式を採用した組織である。
- 2 アメリカのウィルソン大統領が提唱した「14カ条の平和原則」をもとに成立した組織が国際連合である。
- 3 国際連合の安全保障理事会の常任理事国はアメリカ・イギリス・フランス・中国・オーストラリアの5か国である。
- 4 国際連合の総会によって設立された機関の中には、国連世界食糧計画（WFP）や国連児童基金（UNICEF）などがある。
- 5 国際連合の総会では、安全保障理事会のすべての常任理事国及び非常任理事国の賛成がなければ議決することはできない。

【問 13】

外国為替市場と為替レートに関する次の記述のA～Eに当てはまる語句の組合せとして、最も適当なものを次の1～5のうちから一つ選べ。

外国為替市場における自国通貨と外国通貨の交換比率を為替レートといい、現在の主要通貨の為替レートは、外国為替市場における通貨の需要と供給の関係によって決まる（ A ）となっている。

例えば、1ドル=200円から1ドル=100円になると、（ B ）に対する（ C ）の価値が高まり、（ D ）となる。

日本の輸出が増加した場合、日本が獲得した（ B ）を外国為替市場で（ C ）に交換するため、（ C ）への需要が高まり、（ E ）になる傾向がある。

	A	B	C	D	E
1	固定相場制	円	ドル	円安・ドル高	円高・ドル安
2	固定相場制	ドル	円	円高・ドル安	円安・ドル高
3	変動相場制	円	ドル	円高・ドル安	円安・ドル高
4	変動相場制	ドル	円	円高・ドル安	円高・ドル安
5	変動相場制	ドル	円	円高・ドル安	円安・ドル高



【問 14】

少子高齢社会と社会保障に関する記述として、最も適当なものを次の1～5のうちから一つ選べ。

- 1 我が国の合計特殊出生率は、低下の傾向にあるものの、1.5を下回ったことはない。
- 2 高齢化率が5%を超えた社会を高齢化社会、10%を超えた社会を高齢社会とよぶ。
- 3 我が国の年金は賦課方式を基本としているため、このまま少子高齢化が進むと、現役労働者の負担が過大となる。
- 4 我が国は、世代ごとの社会保障が均等になるように制度化しているため、世代間の格差は問題となっていない。
- 5 我が国は、北欧の国々と同等の高福祉を実現するために、それらの国よりも国民所得比に対する租税負担率が高い。

【問 15】

太平洋戦争に関する記述として、最も適当なものを次の1～5のうちから一つ選べ。

- 1 1941年12月8日に日本陸軍がイギリス領フィリピンに上陸し、日本海軍はアメリカのサンフランシスコを奇襲攻撃して、太平洋戦争が開始された。
- 2 日本は、アジアを欧米の植民地支配から解放することを太平洋戦争の目的としていたが、日本の占領支配に対して、アジアにおける抗日運動がしだいに高まっていった。
- 3 1943年に台湾が陥落し、アメリカによる本土空襲が本格的に開始された。1944年3月の東京大空襲による被害もあり、防空壕の掘削や学童疎開が国内にひろまった。
- 4 硫黄島を占領したソ連が1945年4月に沖縄本島に上陸すると、島民を巻き込む激しい地上戦となった沖縄戦が開始された。
- 5 アメリカ・イギリス・ドイツの名で発表されたポツダム宣言を日本政府が黙殺すると、1945年8月に2発の原子爆弾がアメリカによって投下された。その後、政府は宣言の受諾を決定した。

【問 16】

ヨーロッパにおける宗教改革に関する記述として、最も適当なものを次の1～5のうちから一つ選べ。

- 1 マルティン＝ルターは、カトリック教会の贖宥状を非難する九十五カ条の論題を発表した。
- 2 ルターの主張に賛同した西南ドイツの農民は、三十年戦争を起こした。
- 3 ツヴィングリが説いた「予定説」は、西ヨーロッパの商工業者の間でひろまった。
- 4 ザビエルが海外宣教で日本にきた理由は、プロテスタント教会の勢力回復のためであった。
- 5 フランスの宗教内乱であるユグノー戦争は、カール5世のナントの勅令によって終結した。

【問 17】

物質に関する記述として、最も適当なものを次の1～5のうちから一つ選べ。

- 1 海水のように何種類かの物質が混合したものを化合物という。
- 2 水や酸素など1種類の物質からできているのを単体という。
- 3 海水を加熱し沸騰させ、その蒸気を冷やし純水を得る操作を抽出という。
- 4 乾燥した茶葉に熱湯を注ぎ、香りや色の成分を取り出す操作を蒸留という。
- 5 純物質の沸点、融点、密度は物質ごとに決まっており、一定である。

【問 18】

代謝に関する次の記述のA～Dに当てはまる語句の組合せとして、最も適当なものを次の1～5のうちから一つ選べ。ただし、同一の記号には同一の語句が当てはまるものとする。

呼吸とは、酸素を用いて炭水化物や脂肪、たんぱく質などの（ A ）からエネルギーを取り出し、（ B ）を合成することである。

光合成とは、生物が（ C ）を利用して、二酸化炭素と（ D ）から（ A ）を合成することである。

	A	B	C	D
1	無機物	ADP	酸素	水
2	無機物	ATP	光エネルギー	酸素
3	有機物	ADP	酸素	水
4	有機物	ATP	光エネルギー	水
5	有機物	ATP	光エネルギー	酸素

【問 19】

次の記述のA～Cに当てはまる語句の組合せとして、最も適切なものを次の1～5のうちから一つ選べ。

厚生労働省の発表によると、2023年の出生数は（ A ）で、出生率（人口千対）は6.0で前年より（ B ）している。

合計特殊出生率を都道府県別にみると、（ C ）が最も低く0.99を記録し、最も高かった沖縄県では、1.60となっている。

	A	B	C
1	約66万人	低下	東京都
2	約73万人	低下	埼玉県
3	約66万人	増加	千葉県
4	約90万人	増加	千葉県
5	約73万人	低下	東京都

【問 20】

新紙幣に関する記述として最も適当なものを次の1～5のうちから一つ選べ。

- 1 新紙幣の肖像に新たに採用されたのは、一万円は渋沢栄一、五千円は与謝野晶子、千円は北里柴三郎である。
- 2 肖像には、偽造防止の観点から、なるべく精密な写真が入手できる人物が選ばれているため、現在のお札には大正時代以降の人物が用いられている。
- 3 3Dホログラムの技術をユーロに次ぐ世界2番目に、銀行券に採用した。
- 4 北里柴三郎は「近代日本医学の父」と呼ばれる細菌学者であり、純粋培養法を開発した。
- 5 お札の絵柄、デザインを変えること改刷と言い、現在までに53種類のお札が発行されている。

